

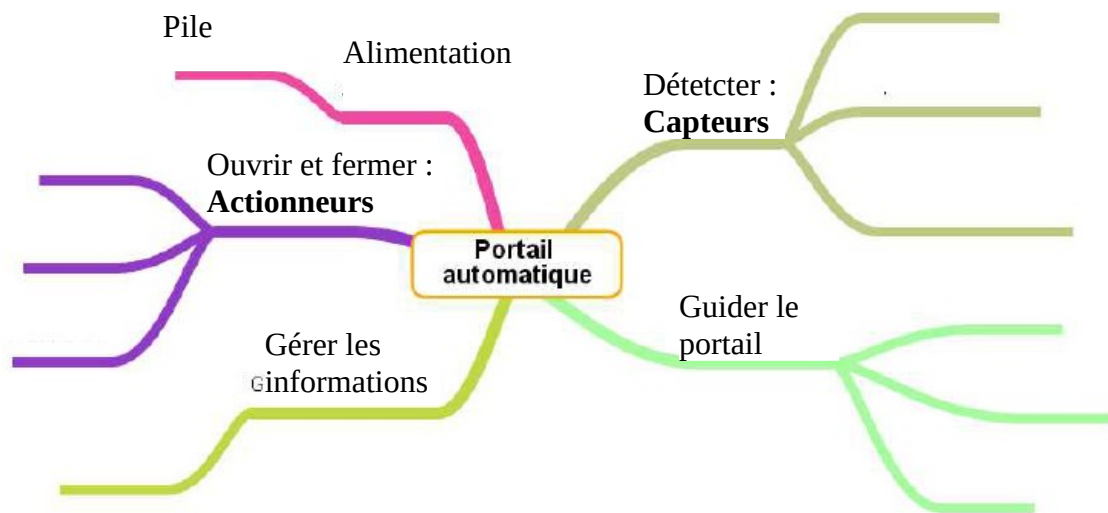
A quoi servent les différents composants du portail ?

1) A partir du document ressource, lister les capteurs et les actionneurs

Capteurs :

Actionneurs :

2) Compléter la carte mentale suivante du portail automatique : Utiliser le document ressource (avec le schéma et la nomenclature):

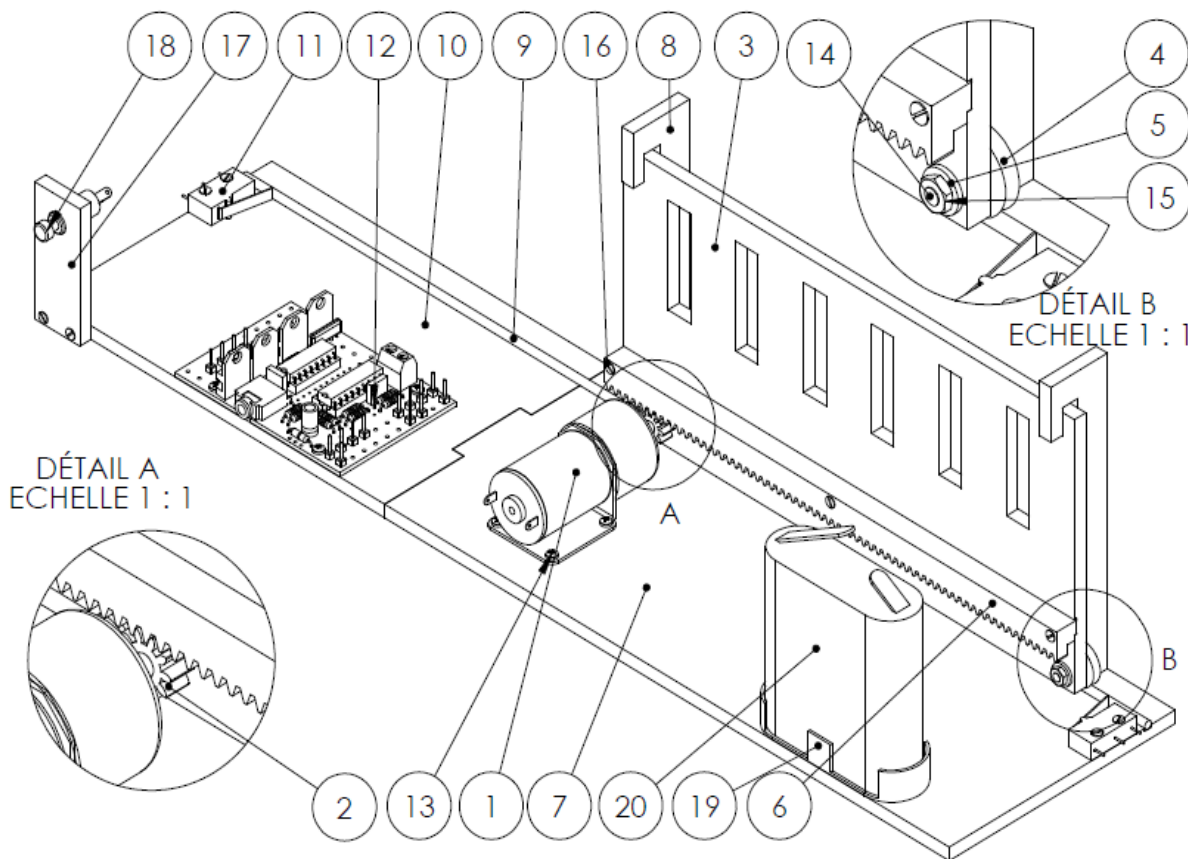


3) Colorier sur le schéma

A) En rouge les capteurs

B) En vert les actionneurs

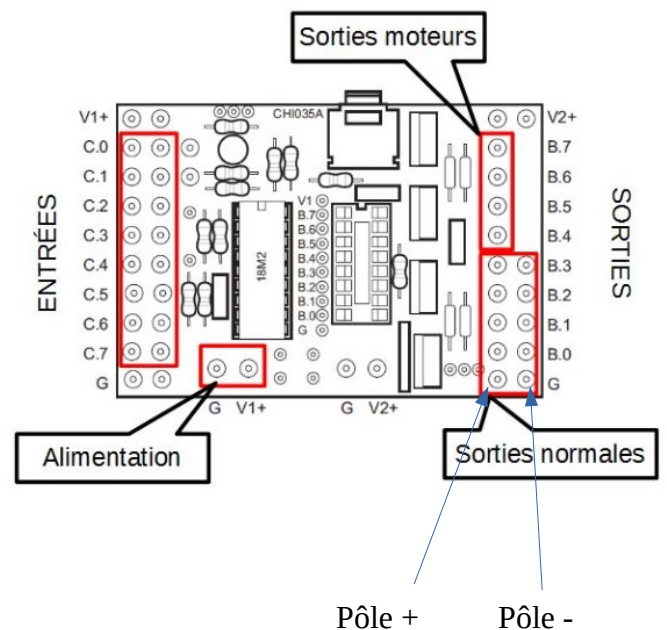
Schéma du portail à compléter



4) Vous devez câbler la maquette en respectant l'ordre de branchement

Sortie : actionneurs
Entrée : capteurs

Composants	Entrée / Sortie
Moteur	Sortie B4;B5 moteur C
LED (pole + et pole -)	Sortie B 3
Bouton poussoir	Entrée C 2
Micro-rupteur Portail Ouvert (MPO)	Entrée C 0
Micro-rupteur Portail fermé (MPF)	Entrée C 1



5) Tracer sur le schéma les câbles